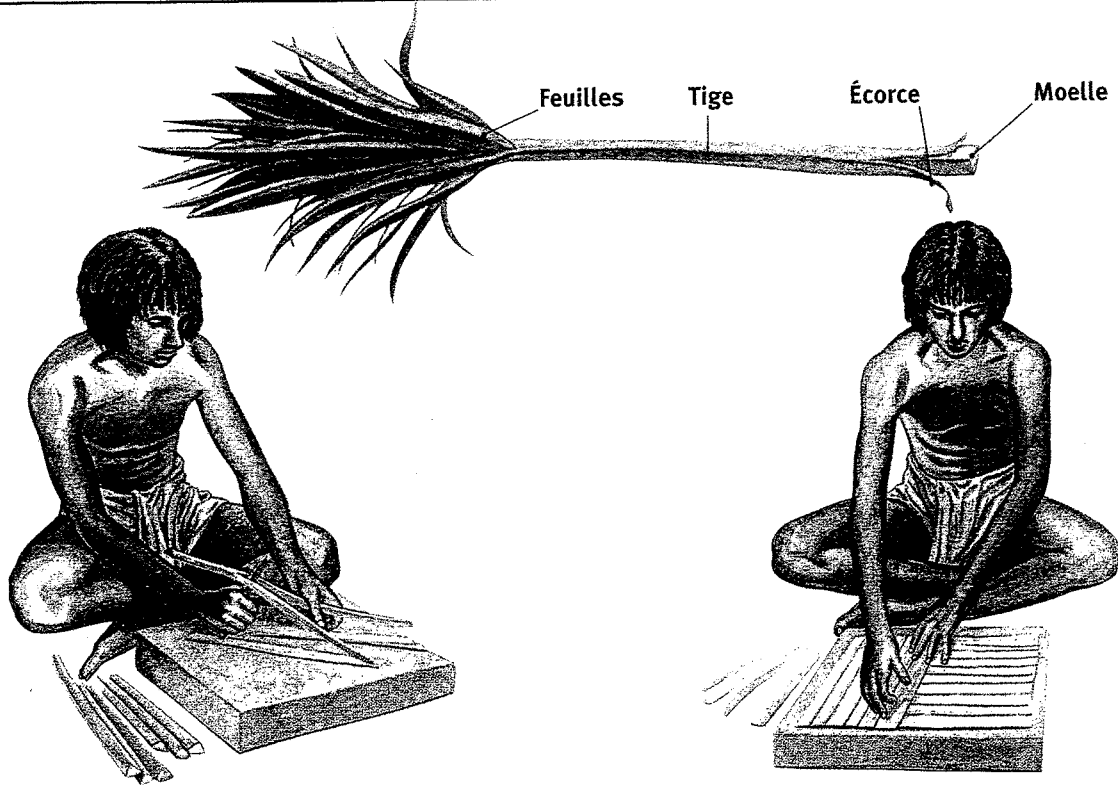


1ère

Étudier la fabrication d'une feuille de papyrus




1. La moelle des tiges est découpée en lamelles.

2. Les lamelles sont disposées en deux couches croisées.



3. Elles sont battues pour obtenir des feuilles et lissées avec une pierre.



4. Les feuilles sont collées pour former un rouleau.

Reconstitution de la fabrication d'une feuille de papyrus dans l'Égypte ancienne

1. Qu'est-ce que le papyrus ? Dans quel pays le trouvait-on ?
2. Quelle était l'opération nécessaire pour obtenir la moelle ?
3. Comment disposait-on les lamelles de la moelle ?
4. Quels étaient les deux outils utilisés pour obtenir une feuille ?
5. Quelle était la forme finale du support ?

Étudier la découverte des hiéroglyphes

Jean-François Champollion (1790-1832)




Lors de son expédition en Égypte en 1798, Napoléon a emmené des savants; il en a ramené des œuvres de l'Égypte ancienne, des dessins de temples et de pyramides.

Le jeune Champollion, né en 1790, s'est passionné dès l'enfance pour l'Égypte ancienne. Il a étudié de nombreuses langues et est devenu professeur d'Histoire à Grenoble.

Disposant d'une copie de la pierre de Rosette, il réussit en 1821-22 à comprendre le sens des hiéroglyphes.

La pierre découverte à Rosette près d'Alexandrie d'Égypte, porte un même texte gravé en trois écritures: des hiéroglyphes, du démotique, l'écriture courante de l'Égypte ancienne, et du grec.

Champollion reconnut le nom du Pharaon Ptolémée dans la partie grecque du texte. Or il savait que, dans l'écriture hiéroglyphique, les noms des Pharaons étaient inscrits dans des cartouches (des ovales). En découvrant le cartouche de Ptolémée dans la partie en hiéroglyphes, il put comparer les hiéroglyphes aux lettres grecques et les déchiffrer.



1. De quel pays provient la pierre de Rosette?
2. Sur la pierre, quelles sont les trois écritures A, B, C?
3. Quelle est la nationalité de Champollion? Durant quel siècle a-t-il découvert le sens des hiéroglyphes?
4. Comment a-t-il pu en déchiffrer le sens?

3° Les supports de l'écriture

La pierre, le bois et le papyrus



Le scribe accroupi

Le regard levé vers son maître, ^{le} buste redressé, le scribe s'apprête à écrire sur une feuille de papyrus. Les yeux sont en émail incrusté. (Statue en calcaire peint en rouge datant de l'Ancien Empire. III^e millénaire).



NOM :

Date :

Prénom :

Classe :

/10

Interrogation : les premières écritures

- 1) Dans quels pays sont apparues les premières écritures ? précisez la date approximative de leur apparition. /3

.....
.....
.....

- 2) Comment s'appelle l'écriture utilisée en Egypte ? /2

.....

- 3) Qui a découvert le sens des hiéroglyphes ? /1

.....

- 4) Comment s'appelle l'écriture utilisée en Mésopotamie ? /2

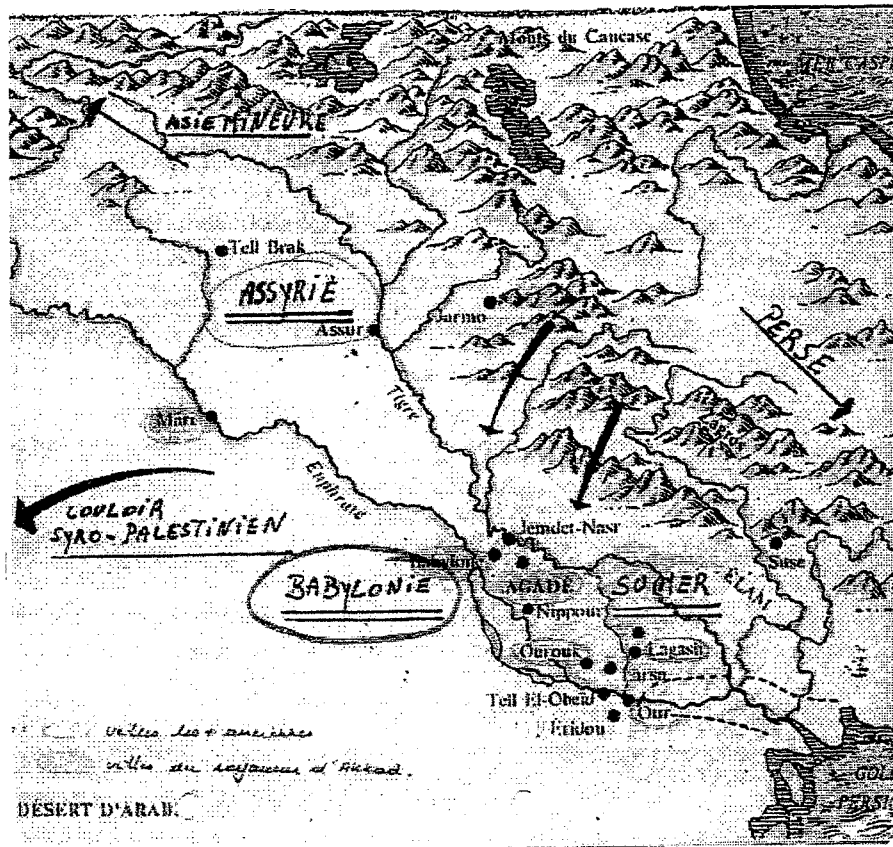
.....

- 5) Quel peuple est à l'origine de la simplification de l'écriture ? /2

.....

III. La Mésopotamie

1° Localisation



Le nom Mésopotamie vient des mots grecs *mesos* (= entre) et *potamos* (= fleuve) et signifie donc

La Mésopotamie est donc une vaste plaine située entre deux fleuves : le et l'.....

Les crues des fleuves, particulièrement violentes, provoquaient souvent des catastrophes. Ainsi, les Mésopotamiens ont dû construire des afin de maîtriser les flots.

Mais ces deux cours d'eau n'avaient pas que des inconvénients, loin de là. En effet, ils ont également permis aux Mésopotamiens de pratiquer l'.....

La Mésopotamie correspond actuellement à l'.....

2° Les peuples de la Mésopotamie

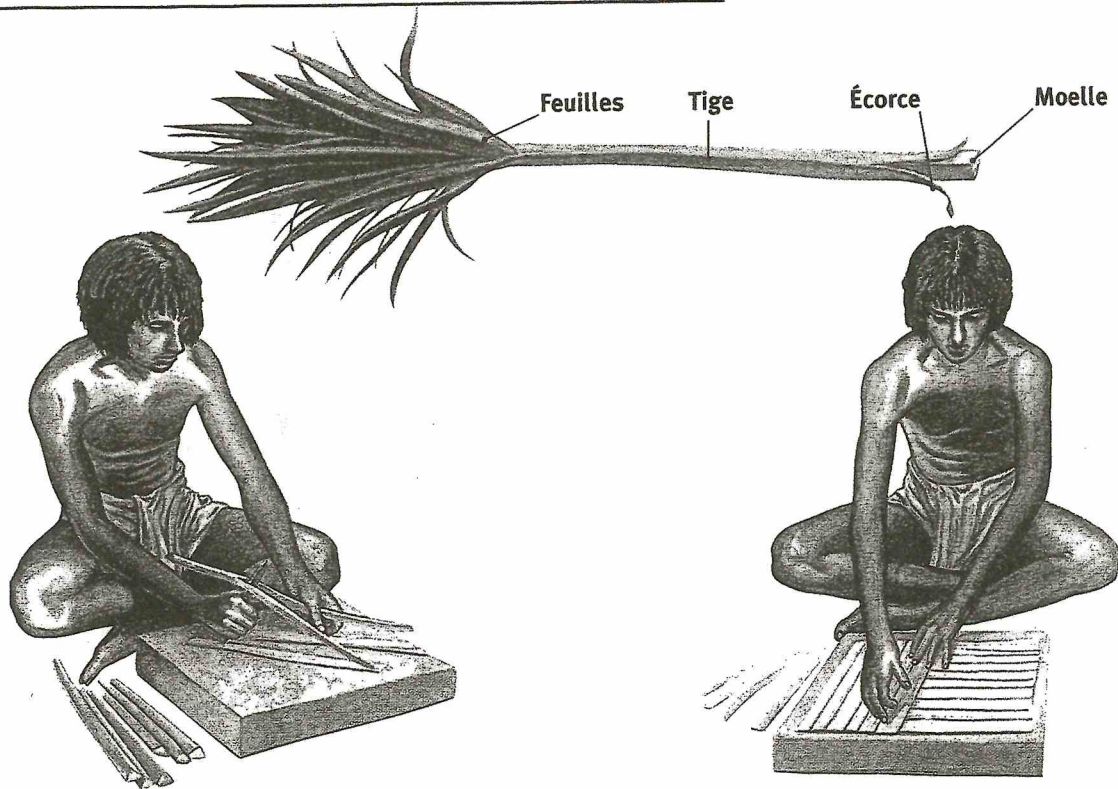
Dès le V^e millénaire avant J.C., la civilisation commence à se développer en Mésopotamie.

a) Les Sumériens

Ils se sont installés les premiers dans la plaine de basse Mésopotamie, appelée aussi

3° Les supports de l'écriture

Étudier la fabrication d'une feuille de papyrus

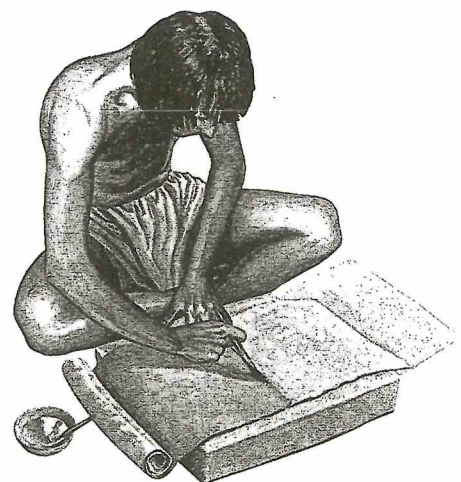


1. La moelle des tiges est découpée en lamelles.

2. Les lamelles sont disposées en deux couches croisées.



3. Elles sont battues pour obtenir des feuilles et lissées avec une pierre.



4. Les feuilles sont collées pour former un rouleau.

Reconstitution de la fabrication d'une feuille de papyrus dans l'Égypte ancienne

1. Qu'est-ce que le papyrus ? Dans quel pays le trouvait-on ? *Plante - Égypte*
2. Quelle était l'opération nécessaire pour obtenir la moelle ? *presser les tiges*

3. Comment disposait-on les lamelles de la moelle ? *on les croisait*
4. Quels étaient les deux outils utilisés pour obtenir une feuille ? *marteau et pierre*
5. Quelle était la forme finale du support ? *rouleau*

Étudier la découverte des hiéroglyphes

Jean-François Champollion (1790-1832)




Lors de son expédition en Égypte en 1798, Napoléon a emmené des savants; il en a ramené des œuvres de l'Égypte ancienne, des dessins de temples et de pyramides.

Le jeune Champollion, né en 1790, s'est passionné dès l'enfance pour l'Égypte ancienne. Il a étudié de nombreuses langues et est devenu professeur d'Histoire à Grenoble.

Disposant d'une copie de la pierre de Rosette, il réussit en 1821-22 à comprendre le sens des hiéroglyphes.

La pierre découverte à Rosette près d'Alexandrie d'Égypte, porte un même texte gravé en trois écritures: des hiéroglyphes, du démotique, l'écriture courante de l'Égypte ancienne, et du grec.

Champollion reconnut le nom du Pharaon Ptolémée dans la partie grecque du texte. Or il savait que, dans l'écriture hiéroglyphique, les noms des Pharaons étaient inscrits dans des cartouches (des ovales). En découvrant le cartouche de Ptolémée dans la partie en hiéroglyphes, il put comparer les hiéroglyphes aux lettres grecques et les déchiffrer.



1. De quel pays provient la pierre de Rosette? *Egypte*.
2. Sur la pierre, quelles sont les trois écritures A, B, C?
3. Quelle est la nationalité de Champollion? Durant quel siècle a-t-il découvert le sens des hiéroglyphes?
4. Comment a-t-il pu en déchiffrer le sens?

A: Hiéroglyphes
B: Démotique
C: écriture courante

3° Les supports de l'écriture

La pierre, le bois et le papyrus



Le scribe accroupi

Le regard levé vers son maître, ^{le} buste redressé, le scribe s'apprête à écrire sur une feuille de papyrus. Les yeux sont en émail incrusté.
(Statue en calcaire peint en rouge datant de l'Ancien Empire. III^e millénaire).



NOM :

Date :

Prénom :

Classe :

/10

Interrogation : les premières écritures

1) Dans quels pays sont apparues les premières écritures ? précisez la date approximative de leur apparition. /3

- Mésopotamie
- Egypte
+ 3500 A.J. J.C.

2) Comment s'appelle l'écriture utilisée en Egypte ? /2

Hiéroglyphes.

3) Qui a découvert le sens des hiéroglyphes ? /1

J. F. Champollion.

4) Comment s'appelle l'écriture utilisée en Mésopotamie ? /2


écriture cunéiforme.

5) Quel peuple est à l'origine de la simplification de l'écriture ? /2

les Phéniciens.

III. La Mésopotamie

1° Localisation



Le nom Mésopotamie vient des mots grecs *mesos* (= entre) et *potamos* (= fleuve) et signifie donc ... *terres entre les fleuves*

La Mésopotamie est donc une vaste plaine située entre deux fleuves : le *Tigre*... et l'*Euphrate*...

Les crues des fleuves, particulièrement violentes, provoquaient souvent des catastrophes. Ainsi, les Mésopotamiens ont dû construire des *digues*... afin de maîtriser les flots.

Mais ces deux cours d'eau n'avaient pas que des inconvénients, loin de là. En effet, ils ont également permis aux Mésopotamiens de pratiquer l'*agriculture*

La Mésopotamie correspond actuellement à l'*Irak*.

2° Les peuples de la Mésopotamie

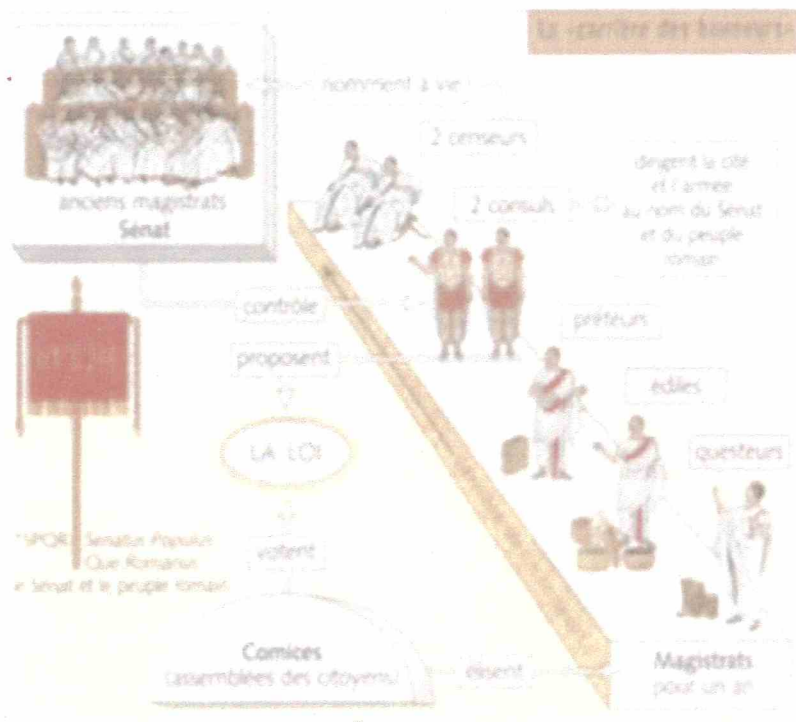
Dès le V^e millénaire avant J.C., la civilisation commence à se développer en Mésopotamie.

a) Les Sumériens

Ils se sont installés les premiers dans la plaine de basse Mésopotamie, appelée aussi *Sumer*.....

بِسْمِ اللّٰهِ الرَّحْمٰنِ الرَّحِیْمِ

Document 26 : La carrière des honneurs d'un magistrat sous la Rome républicaine.



Les comices : sortes d'assemblées du peuple qui votent les lois et élisent les magistrats.

Comices centuriates : (193 centuries) sont issues de l'organisation militaire. Les patriciens sont regroupés dans les 98 premières et votent les premiers, ils imposent donc leur loi.

Comices tributes : rassemblent 31 tribus ou régions rurales où dominent les riches propriétaires terriens et 4 tribus urbaines où sont groupés tous les citoyens pauvres. En fait, les pauvres ne votaient jamais.

Réponds aux questions suivantes sur une feuille de bcc :

1. Qui proposent les lois dans la République romaine ?
2. Qui votent les lois ?
3. Qui élit les magistrats ?
4. Quel est leur rôle ? Définis celui de chacun d'entre eux. Lesquels ont, à ton avis le plus de pouvoir ?
5. Pour combien de temps sont-ils élus ?
6. Quel est le rôle du sénat ? Est-il important ?
7. Par qui sont nommés ses membres ?

5.2. Les conquêtes de Rome et son extension ... depuis la Res Publica.

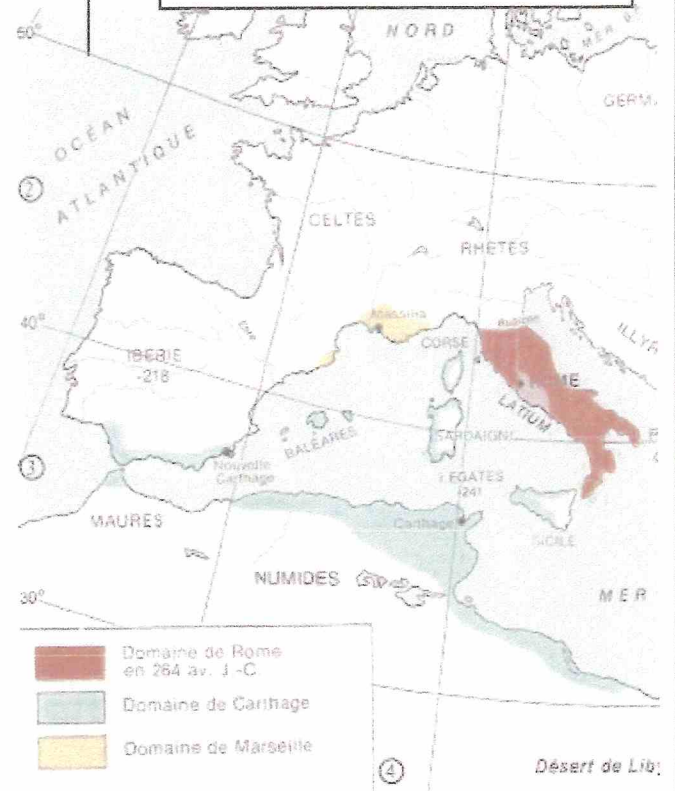
5.2.1.

➤ Voici des documents, analyse-les afin de répondre aux questions.



Document 29 :
Italie au milieu du I^{er} M.
avant notre ère.

Document 30 :
La méditerranée de l'ouest vers
300 avant notre ère.



1. Lorsque tu observes les titres de ces cartes, quelles sont les différences que tu pourrais relever ?

2. Combien comptes-tu de civilisations sur le doc 29 et le doc 30 en Italie.

3. Quels constats peux-tu établir ?

- Lis à présent ce texte afin d'en tirer des constats et de les comparer avec ceux de la page 14. Surligne les éléments constatés précédemment.

Guerres de Rome contre ses voisins : VOLSQUES, EQUES, ETRUSQUES. Rome sur la défensive. Appauvrissement de la plèbe consécutif aux guerres ; le débiteur insolvable devient l'esclave de son créancier. Mais par suite de son rôle militaire indispensable dans les guerres incessantes du début de la République, lente ascension de la Plèbe qui arrache, au bout de deux siècles, l'égalité avec le Patriciat. Les Comices Curiates remplacées par les COMICES CENTURIATES, d'origine militaire ; les centurées regroupées en 5 classes suivant la richesse.

Ve s. Luttes de Rome contre les MONTAGNARDS voisins du Latium ; poursuite de la lutte contre les Etrusques. Prépondérance du pouvoir militaire à Rome. 340-290 Grandes guerres contre les Samnites (montagnards des Apennins).

v. 300 Toutes les fonctions de l'Etat à Rome accessibles aux plébétiens. Ceci intéresse la couche supérieure enrichie de la Plèbe. Le Patriciat ainsi remplacé par une nouvelle aristocratie de fonction où les anciens consuls (CONSULARES) et leur famille (NOBLESSE) tiennent le premier rang.

295 Bataille de SENTINUM (Ombrie) : victoire décisive de Rome sur les Samnites. L'Italie centrale sous la domination romaine.

262-272 Guerre contre Tarente et son allié, le roi Pyrrhus d'Epire. Victoires coûteuses de ce dernier (« victoires à la Pyrrhus »), et expédition infructueuse en Sicile, après l'alliance de Rome avec Carthage. 272, victoire romaine près de BENEVENT. Conséquence : Rome conquiert l'Italie méridionale.

268 Unification, par Rome, de l'Italie jusqu'à l'Arno et le Rubicon. Les cités italiennes réparties en « *municipes* » avec des droits civiques limités (pas de droit de vote) et en « *alliés* » : obligation de l'aide militaire ; alliance avec Rome uniquement ; aucun lien politico-juridique entre elles.

- Utilise la carte distribuée afin d'indiquer les conquêtes identifiées. (N'oublie pas d'utiliser une légende.)

5.2.2. Les guerres puniques ...

Texte 31

Les guerres puniques opposent durant plus d'un siècle deux cités pour la domination de la Méditerranée occidentale : Rome, qui a achevé la conquête de l'Italie, rencontre dans son expansion Carthage, ancienne colonie phénicienne d'Afrique (actuelle Tunisie) et puissance commerciale dominante de l'Occident. Les deux impérialismes s'affrontent de - 264 à - 146 au cours de trois guerres.

La première (- 264 à - 241) a pour théâtre la Sicile et aboutit, après la victoire navale de Rome, à la création des premières provinces romaines. La deuxième guerre (- 218 à -201), décisive, s'étend à l'ensemble de la Méditerranée occidentale : le général carthaginois Hannibal triomphe d'abord en Italie, mais le général romain Scipion l'Africain finit par l'emporter en Espagne, puis en Afrique même, ce qui lui vaudra son surnom. Carthage n'est désormais plus une menace, mais Rome décide de la détruire au cours de la troisième guerre punique (- 149 à - 146). Après un long siège, Scipion Émilien rase la cité. La culture punique survivra toutefois plusieurs siècles encore, tandis que Rome, débarrassée de son plus sérieux rival, s'engage dans une nouvelle phase de son expansion.

Source : Xavier LAPRAY, « GUERRES PUNIQUES », *Encyclopaedia Universalis (en ligne)*, consulté en 2017.
URL : <http://www.universalis.fr/encyclopedie/guerres-puniques/>

1. De quoi est-il question dans ce texte ? Explique.

.....

2. Combien en comptes-tu de ces guerres ?

.....

3. Décris-les.


.....

.....

.....

4. Remplace ces guerres sur cette ligne du temps :

.....



5.2.3. Les conquêtes d'orient

Texte 32

➤ Analyse le document ci-dessous et réponds aux questions.

Rome poursuit d'abord les alliés d'Hannibal : Philippe, roi de Macédoine, battu aux Cynoscephales; Antiochus, roi de Syrie, vaincu aux Thermopyles et à Magnésie; les Etoliens achètent la paix; Philopoemen, chef de la ligue Achéenne, est mis à mort; Hannibal s'empoisonne pour ne pas être livré aux Romains par Prusias, roi de Bithynie (183). Après des luttes difficiles en Espagne et dans la Cisalpine, Rome reprend la conquête de la Macédoine; Persée, battu par Paul Emile à Pydna (168), est promené dans Rome, derrière le char du triomphateur. Métellus réduit ce royaume en province (146), tandis que Mummius triomphe de la ligue Achéenne, entre dans Corinthe et fait de la Grèce une province romaine. Caton l'Ancien excite Massinissa contre Carthage; Scipion Émilien débarque en Afrique, bloque la ville durant trois ans et la détruit de fond en comble (146). Après cette troisième guerre punique, il passe dans l'Espagne révoltée et réduit l'héroïque Numance par la famine (133). Pour faire communiquer l'Espagne et l'Italie, les Romains forment la province de Gaule transalpine et fondent Narbonne (125). En Afrique, le roi numide Jugurtha, qui ne voyait dans Rome qu'une ville à vendre, achète les généraux envoyés contre lui; mais il est battu par Métellus et pris par Marius. Tranquille au Sud, Rome est menacée au Nord par l'invasion des Cimbres et des Teutons, vaincus par Marius à Aix (102), à Verceil (101). Mithridate, roi de Pont conquiert l'Asie Mineure et soulève la Grèce; mais Sylla prend Athènes et triomphe des Asiatiques à Chéronée et à Orchomène; Lucullus bat le roi d'Arménie Tigrane, allié de Mithridate; Pompée oblige Mithridate à se tuer, entre dans Jérusalem, et réduit en provinces romaines le Pont, la Cilicie, la Syrie (63), auxquels il faut ajouter la Bithynie réduite en 75.

Source : J. Toutain, <http://www.cosmovisions.com/ChronoRepubliqueRomaine.htm#HBcLqgZx4M3J2E13.99>

Antonio Attini, Marcello Bertinetti, Stéfano Ardito, *Au-dessus de Rome*, White Star, 2007.

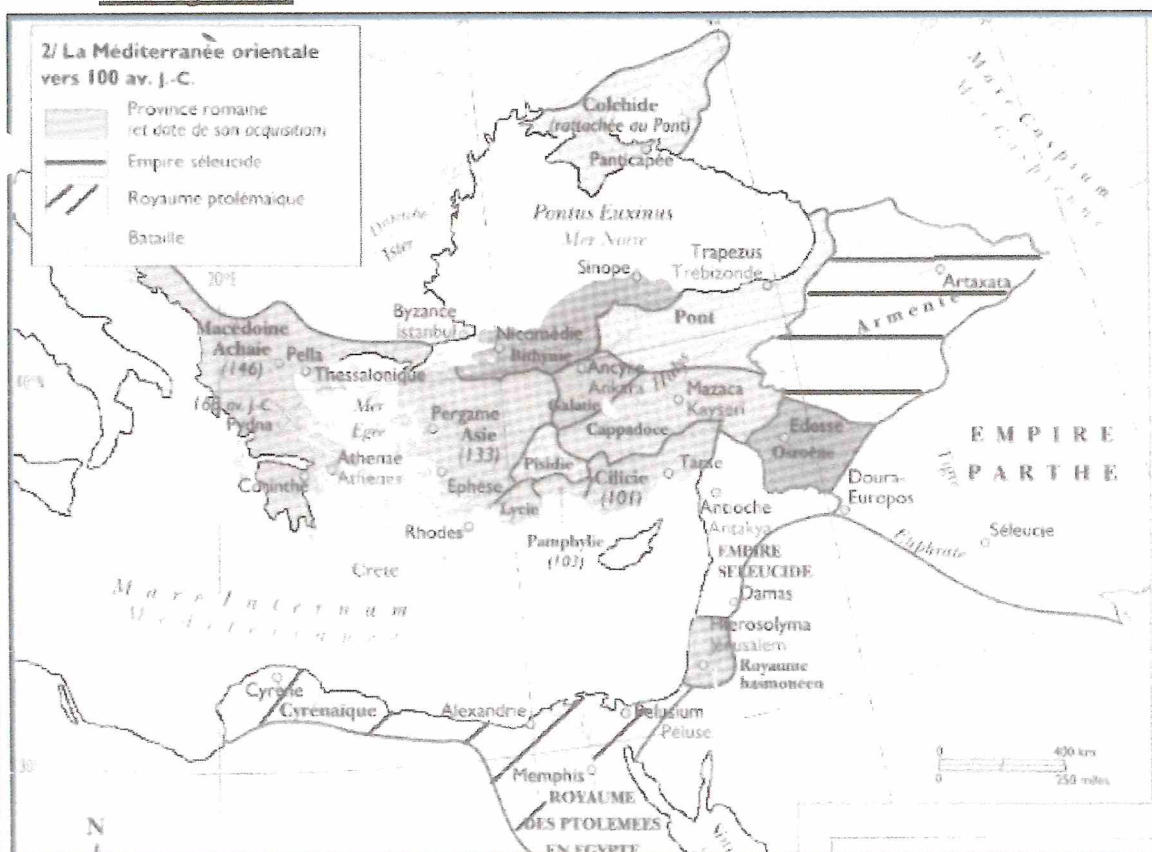
1. Nature et origine du texte ?

2. De quoi est-il question dans ce document ?

3. Rappel... qui est Hannibal ? replace-le dans le contexte évoqué précédemment.

4. Surligne les différentes régions conquises par Rome ainsi que les dates dans le texte et sur la carte de l'atlas.

➤ Utilise la carte distribuée afin d'indiquer les conquêtes identifiées. (N'oublie pas d'utiliser une légende.)

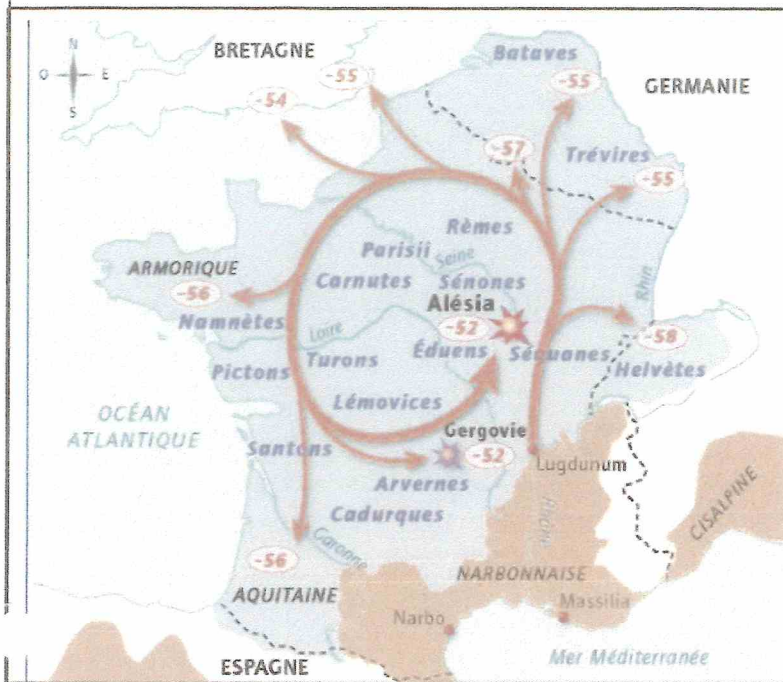


Doc 33

Les conquêtes en Orient, source : SCARRE, Chris, « Atlas de la Rome antique, 800 av. J.-C. - 540 ap J.-C. », op. cit. p. 27.

5.2.4.

➤ Analyse les documents et réponds aux questions.



Doc 34



Doc 35

Vercingétorix convertit à sa cause tous ceux de ses compatriotes qu'il rencontre ; il les pousse à prendre les armes pour la liberté de la Gaule. Il rassemble de nombreux peuples gaulois qui à l'unanimité lui confient le commandement suprême. Il ordonne qu'un nombre déterminé de soldats lui soit amené sans délai, il fixe quelle quantité d'armes chaque cité doit fabriquer ; il donne un soin particulier à la cavalerie. A la plus grande activité, il joint une sévérité extrême dans l'exercice du commandement. Pour une faute grave, c'est la mort par le feu ; pour une faute légère, il fait couper les oreilles du coupable ou lui fait crever un œil, et il le renvoie chez lui, afin qu'il serve d'exemple et que la sévérité du châtement subi frappe les autres de terreur.

D'après César, *La guerre des Gaules*

Doc 36

Vercingétorix convoque un conseil où il expose qu'il faut conduire la guerre d'une tout autre manière qu'on a fait jusqu'à présent. Il faut s'attacher à priver les Romains de vivres et de fourrage : l'ennemi, ne trouvant pas d'herbe à couper, sera contraint de s'écarter et pourra chaque jour être détruit. Le salut commun doit faire oublier les intérêts particuliers. Villages et fermes doivent être brûlés ainsi que les places qui pourraient servir de refuges aux traîtres ou aux Romains. Si de tels moyens paraissent durs et violents, ne serait-il pas plus dur encore de voir leurs femmes et leurs enfants traités en esclaves, et d'être eux-mêmes égorgés. Ces propositions sont adoptées à l'unanimité, De tous côtés, on aperçoit des incendies.

D'après César, *La Guerre des Gaules* (VII), 51 avant J.-C

Vercingétorix convoque l'assemblée, il déclare que cette guerre n'a pas été entreprise par lui à des fins personnelles, mais pour conquérir la liberté de tous. Il s'offre pour qu'on apaise les Romains par sa mort ou qu'on le livre vivant. On envoie à ce sujet une délégation à César qui ordonne qu'on lui livre les armes et qu'on amène les chefs. On lui livre Vercingétorix, on jette les armes à ses pieds. Il distribue les prisonniers à l'armée entière, à titre de butin, à raison d'un par tête

D'après César, *La Guerre des Gaules* (VII), 51 avant J.-C.

Après six années d'emprisonnement à Rome, Vercingétorix fit partie du triomphe de César en 46 avant J.-C. et fut étranglé devant le temple de Jupiter Capitolin.

1. De quoi est-il question dans ces documents ? Quel est le sujet commun ? Indique l'intitulé du point en question de la page 17.

2. Que peux-tu observer sur le document 34 ?

3. Durant quel siècle se sont déroulés ces événements ? Quelle période de l'histoire romaine ?

4. Qui sont les personnes emblématiques de ces événements ? Cite-les.

5. Pour les romains, quel était leur objectif ?

6. Et pour les gaulois, qu'en était-il ? Comment, leur personne emblématique, s'y était-elle prise ? Réponds et surligne-les dans le texte

7. Quelle tactique a-t-il utilisé pour lutter contre les romains ? Explique.

8. Finalement, qu'en est-il de cet individu ? Pourquoi ?

➤ Utilise la carte distribuée afin d'indiquer les conquêtes identifiées. (N'oublie pas d'utiliser une légende.)



Doc 38

Statère d'or de Vercingétorix, dimension 1,8cm, Pionsat, Puy-de-Dôme, 1^{er} siècle avant J.-C.

5.2.5. En synthèse ...

➤ Complète les éléments manquants : (synthèse à joindre avec la carte complétée.)

1. Les conquêtes militaires

a. L'armée romaine = l'instrument de la conquête

Au début de la république romaine, l'armée est composée de citoyens âgés de 17 à 60 ans. Ils sont répartis dans des légions selon leur fortune car chacun paie son armement. Donc, au départ, seuls les pauvres échappent au service militaire. Mais à la suite, des conquêtes, un consul réorganise l'armée et crée une armée de métier. La vie du soldat est très dure, il subit un rude entraînement, porte ses armes et sa nourriture (+/- 30 kg). La discipline y est très sévère mais elle assure la supériorité de l'armée romaine sur ses ennemis.

Légionnaire romain



b. L'empire romain se constitue progressivement.

Dès les débuts de la République, Rome réalise la conquête de l'Italie. Après s'être imposé en deux siècles à toute l'Italie, Rome s'attaque au 3^{ème} siècle à, une puissante cité commerçante d'Afrique du nord. Pendant plus d'un siècle, opposent Rome à pour la domination de C'est finalement Rome qui est victorieuse de Une fois conquise, les Romains poursuivent leurs conquêtes dans le bassin méditerranéen.

c. La guerre des Gaules.

Depuis 121 avant JC, le de la Gaule est déjà une province romaine. Le reste du territoire est peuplé par les Gaulois qui sont divisés en de nombreuses tribus et se font souvent la guerre. En 58 avant JC, profite des rivalités entre les gaulois pour entreprendre la conquête de la Gaule. Il se heurte à, un jeune chef qui organise la résistance face à l'envahisseur romain. Vercingétorix est finalement vaincu en 52 avant JC après le siège d'Alésia. La Gaule devient alors une des plus riches provinces du monde romain.

2. Les conséquences des conquêtes sur la société romaine

a. Les romains pillent et imposent leur mode de fonctionnement

Rome est très dure lorsqu'elle est victorieuse. Les prisonniers de guerre sont réduits en esclavage, les autres habitants doivent effectuer le service militaire et payer à Rome de lourds impôts. Le pillage des provinces est systématique et général, pourtant, très vite, les riches provinciaux vaincus copient le mode de vie des Romains.

b. Les conquêtes bouleversent la société romaine.

Les romains abandonnent la vie simple qu'ils ont autrefois menée pour adopter le luxe et le raffinement de l'Orient hellénistique. Les romains admirent la culture grecque et se mettent à l'imiter. Ils assimilent leurs dieux aux dieux grecs. Ainsi naquit une civilisation gréco-romaine.

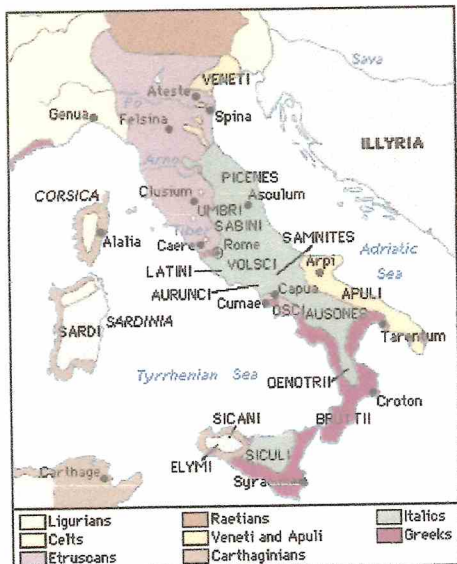
En même temps, l'écart entre les riches et les pauvres se creuse. Les petits paysans sont ruinés par les conquêtes et doivent faire face à la concurrence des produits venus des provinces. Ils souhaitent donc une réforme agraire (redistribution plus juste des terres) mais les riches s'y opposent. Alors, les citoyens pauvres s'engagent à voter dans le sens qui avantage les familles riches et celles-ci en échange, les font vivre. Les pauvres deviennent leurs

Les guerres victorieuses menées par les généraux leur ont donné beaucoup de pouvoir par rapport au reste de la population et ils ont tendance à tout vouloir réglementer. Cette situation donnera naissance à de nombreuses guerres civiles (guerres qui opposent les habitants d'un même pays)

5.2. Les conquêtes de Rome et son extension ... depuis la Res Publica.

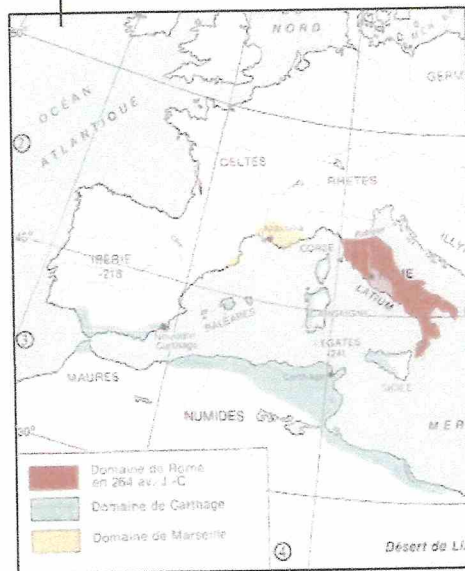
5.2.1. Conquête de « l'Italie » par Rome.

➤ Voici des documents, analyse-les afin de répondre aux questions.



Document 29 :
Italie au milieu du I^{er} M.
avant notre ère.

Document 30 :
La méditerranée de l'ouest vers
300 avant notre ère.



1. Lorsque tu observes les titres de ces cartes, quelles sont les différences que tu pourrais relever ?

Sur le document 29 il est question de l'Italie (+/- 500 avant JC, nous sommes durant la République Romaine.) et des civilisations dans cette région. Dans le document 30, on observe les civilisations qui bordent la méditerranée de l'ouest. L'Italie n'est plus divisée et est occupée par Rome, et nous sommes en 264 avant J-C.

2. Combien comptes-tu de civilisations sur le doc 29 et le doc 30 en Italie.

Sur le doc 29 : 8 et sur le doc 30 : 3.

3. Quels constats peux-tu établir ?

Durant la deuxième période de l'Histoire romaine, la République, Rome aurait conquis les territoires occupés par les autres civilisations en Italie, à l'exception des territoires occupés par Carthage.

- Lis à présent ce texte afin d'en tirer des constats et de les comparer avec ceux de la page 14. Surligne les éléments constatés précédemment.

Guerras de Rome contre ses voisins : VOLQUES, EQUES, ETRUSQUES. Rome sur la défensive. Appauvrissement de la plèbe consécutif aux guerres ; le débiteur insolvable devient l'esclave de son créancier. Mais par suite de son rôle militaire indispensable dans les guerres incessantes du début de la République, *lente ascension de la Plèbe qui arrache, au bout de deux siècles, l'égalité avec le Patriciat*. Les Comices Curiates remplacées par les COMICES CENTURIATES, d'origine militaire ; les centuriones regroupées en 5 classes suivant la richesse.

Ve s. Luites de Rome contre les MONTAGNARDS voisins du Latium ; poursuite de la lutte contre les Etrusques. Prépondérance du pouvoir militaire à Rome.

340-290 Grandes guerres contre les Samnites (montagnards des Apennins).

v. 300 Toutes les fonctions de l'Etat à Rome accessibles aux plébéiens. Ceci intéresse la couche supérieure enrichie de la Plèbe. Le Patriciat ainsi remplacé par une nouvelle aristocratie de fonction où les anciens consuls (CONSULARES) et leur famille (NOBLESSE) tiennent le premier rang.

295 Bataille de SENTINUM (Ombrie) : victoire décisive de Rome sur les Samnites. L'Italie centrale sous la domination romaine.

282-272 Guerre contre Tarente et son allié, le roi Pyrrhus d'Epire. Victoires coûteuses de ce dernier (« victoires à la Pyrrhus »), et expédition infructueuse en Sicile, après l'alliance de Rome avec Carthage. 272, victoire romaine près de BENEVENT. Conséquence : Rome conquiert l'Italie méridionale.

268 Unification, par Rome, de l'Italie jusqu'à l'Arno et le Rubicon. Les cités italiennes réparties en « municipes » avec des droits civiques limités (pas de droit de vote) et en « alliés » : obligation de l'aide militaire ; alliance avec Rome uniquement ; aucun lien politico-juridique entre elles.

- Utilise la carte distribuée afin d'indiquer les conquêtes identifiées. (N'oublie pas d'utiliser une légende.)

5.2.2. Les guerres puniques ...

Texte 31

Les guerres puniques opposent durant plus d'un siècle deux cités pour la domination de la Méditerranée occidentale : Rome, qui a achevé la conquête de l'Italie, rencontre dans son expansion Carthage, ancienne colonie phénicienne d'Afrique (actuelle Tunisie) et puissance commerciale dominante de l'Occident. Les deux impérialismes s'affrontent de - 264 à - 146 au cours de trois guerres.

La première (- 264 à - 241) a pour théâtre la Sicile et aboutit, après la victoire navale de Rome, à la création des premières provinces romaines. La deuxième guerre (- 218 à -201), décisive, s'étend à l'ensemble de la Méditerranée occidentale : le général carthaginois Hannibal triomphe d'abord en Italie, mais le général romain Scipion l'Africain finit par l'emporter en Espagne, puis en Afrique même, ce qui lui vaudra son surnom. Carthage n'est désormais plus une menace, mais Rome décide de la détruire au cours de la troisième guerre punique (- 149 à - 146). Après un long siège, Scipion Émilien rase la cité. La culture punique survivra toutefois plusieurs siècles encore, tandis que Rome, débarrassée de son plus sérieux rival, s'engage dans une nouvelle phase de son expansion.

Source : Xavier LAPRAY, « GUERRES PUNIQUES », *Encyclopaedia Universalis (en ligne)*, consulté en 2017.
URL : <http://www.universalis.fr/encyclopedie/guerres-puniques/>

1. De quoi est-il question dans ce texte ? Explique.

Il traite des guerres puniques. Ces guerres ont opposé Rome à Carthage durant 118 années, soit plus d'un siècle.

2. Combien en comptes-tu de ces guerres ?

Il y en a eu 3.

3. Décris-les.

première (-264 à -241) : guerre pour la Sicile et création d'une nouvelle province romaine au sud de l'Italie.

La deuxième (-218 à -201). Hannibal triomphe en Italie mais le général romain l'emporte en Espagne puis en Afrique.

La troisième (-149 à -146) : Destruction de la cité de Carthage par Rome.

4. Replaces ces guerres sur cette ligne du temps :

La République romaine : Les trois guerres puniques entre le III^es et le II^es avant JC.

Commenté [MN9] : Echelle :
1 cm = 25 ans

5.2.3. Les conquêtes d'orient

➤ Analysez le document ci-dessous et répondez aux questions.

Texte 32

Rome poursuit d'abord les alliés d'Hannibal : Philippe, roi de Macédoine, battu aux Cynoscéphales; Antiochus, roi de Syrie, vaincu aux Thermopyles et à Magnésie; les Etoliens achètent la paix; Philopoemen, chef de la ligue Achéenne, est mis à mort; Hannibal s'empoisonne pour ne pas être livré aux Romains par Prusias, roi de Bithynie (183). Après des luttes difficiles en Espagne et dans la Cisalpine, Rome reprend la conquête de la Macédoine; Persée, battu par Paul Emile à Pydna (168), est promené dans Rome, derrière le char du triomphateur. Métellus réduit ce royaume en province (146), tandis que Mummius triomphe de la ligue Achéenne, entre dans Corinthe et fait de la Grèce une province romaine. Caton l'Ancien excite Massinissa contre Carthage; Scipion Émilien débarque en Afrique, bloque la ville durant trois ans et la détruit de fond en comble (146). Après cette troisième guerre punique, il passe dans l'Espagne révoltée et réduit l'héroïque Numance par la famine (133). Pour faire communiquer l'Espagne et l'Italie, les Romains forment la province de Gaule transalpine et fondent Narbonne (125). En Afrique, le roi numide Jugurtha, qui ne voyait dans Rome qu'une ville à vendre, achète les généraux envoyés contre lui; mais il est battu par Métellus et pris par Marius. Tranquille au Sud, Rome est menacée au Nord par l'invasion des Cimbres et des Teutons, vaincus par Marius à Aix (102), à Verceil (101). Mithridate, roi de Pont conquiert l'Asie Mineure et soulève la Grèce; mais prend Athènes et triomphe des Asiatiques à Chéronée et à Orchomène; Lucullus bat le roi d'Arménie Tigrane, allié de Mithridate; Pompée oblige Mithridate à se tuer, entre dans Jérusalem, et réduit en provinces romaines le Pont, la Cilicie, la Syrie (63), auxquels il faut ajouter la Bithynie réduite en 75.

Source : J. Toutain, <http://www.cosmovisions.com/ChronoRepubliqueRomaine.htm#HBcl.qgZx4M3J2E13.99>

Antonio Atini, Marcello Bertinetti, Stefano Ardito, *Au-dessus de Rome*, White Star, 2007.

1. Nature et origine du texte ?

Il s'agit d'un document écrit et d'un travail postérieur.

2. De quoi est-il question dans ce document ?

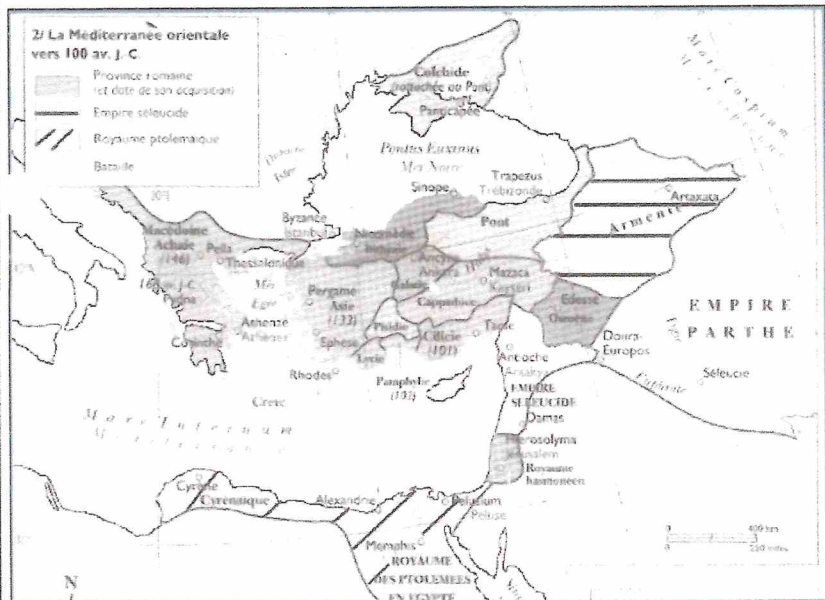
On y évoque les différentes guerres et conquêtes en Orient effectuées par Rome.

3. Rappel... qui est Hannibal ? replace-le dans le contexte évoqué précédemment.

Il s'agit du général carthaginois qui a été vaincu lors des guerres puniques.

4. Surligne les différentes régions conquises par Rome ainsi que les dates dans le texte et sur la carte de l'atlas.

➤ Utilisez la carte distribuée afin d'indiquer les conquêtes identifiées. (N'oubliez pas d'utiliser une légende.)



Doc 33

Les conquêtes en Orient, source : SCARRE, Chris, « Atlas de la Rome antique, 800 av. J.-C. - 540 ap. J.-C. », op. cit. p. 27.

Commenté [MN15]: Empire séleucide : issu de la dynastie des « Séleucides », cette dynastie est hellénistique et qui constitue un empire syro-iranien. Royaume ptolémaïque : est une dynastie pharaonique qui règne sur l'Égypte de 323 à 30 avant notre ère.

Analyse de la carte :
 - Quelle est la nature ? Origine du document ?
 - Quel est le sujet de cette carte ?
 - Que retrouve-t-on sur cette carte ?
 - Combien de royaumes/empires comptez-vous ? cite-les. 5

Analyse de la vidéo :
 - Un des termes, évoqué dans la vidéo, fait parti du sujet de notre séquence, relève-le et explique-le.

Mare nostrum : notre mer car les romains ont conquis la quasi-totalité des territoires bordant la mer méditerranéenne.

Doc 37

Vercingétorix convoque l'assemblée, il déclare que cette guerre n'a pas été entreprise par lui à des fins personnelles, mais pour conquérir la liberté de tous. Il s'offre pour qu'on apaise les Romains par sa mort ou qu'on le livre vivant. On envoie à ce sujet une délégation à César qui ordonne qu'on lui livre les armes et qu'on amène les chefs. On lui livre Vercingétorix, on jette les armes à ses pieds. Il distribue les prisonniers à l'armée entière, à titre de butin, à raison d'un par tête

D'après César, *La Guerre des Gaules* (VII), 51 avant J.-C.

Après six années d'emprisonnement à Rome, Vercingétorix fit partie du triomphe de César en 46 avant J.-C. et fut étranglé devant le temple de Jupiter Capitolin.

- . De quoi est-il question dans ces documents ? Quel est le sujet commun ? Indique l'intitulé du point en question de la page 17.

Il s'agit de la conquête de la Gaule par les romains.

2. Que peux-tu observer sur le document 34 ?

On y voit le sud de la France actuelle, qui a été conquise auparavant par les romains (Narbonne) mais aussi les campagnes militaires lancées par César dans l'ensemble des territoires gaulois.

3. Durant quel siècle se sont déroulés ces événements ? Quelle période de l'histoire romaine ?

Durant le 1^{er} siècle avant J.-C., la république romaine.

4. Qui sont les personnes emblématiques de ces événements ? Cite-les.

Il s'agit de Jules César et de Vercingétorix.

5. Pour les romains, quel était leur objectif ?

La conquête de la Gaule.

6. Et pour les gaulois, qu'en était-il ? Comment, leur personne emblématique, s'y était-elle prise ? Réponds et surligne-les dans le texte.

Il a essayé de convertir à sa cause tous les compatriotes qu'il rencontre en les poussant à prendre les armes pour la liberté de la Gaule. Il rassemble tous les peuples gaulois qui lui garantissent leur confiance.

7. Quelle tactique a-t-il utilisé pour lutter contre les romains ? Explique.

Il compte adopter une tactique de guerre différente, en privant les romains de vivres et en détruisant tous les refuges.

8. Finalement, qu'en est-il de cet individu ? Pourquoi ?

Vercingétorix explique que le but de cette guerre n'était pas personnel mais plutôt d'acquiescer la liberté tous. Il se livre à César et se fait étrangler 6 ans plus tard.

- Utilise la carte distribuée afin d'indiquer les conquêtes identifiées. (N'oublie pas d'utiliser une légende.)

Doc 38



Statère d'or de Vercingétorix, dimension 1,8cm, Pionsat, Puy-de-Dôme, 1^{er} siècle avant J.-C.

5.2.5. En synthèse ...

> Complète les éléments manquants : (synthèse à joindre avec la carte complétée.)

I. Les conquêtes militaires

a. L'armée romaine = l'instrument de la conquête

Au début de la république romaine, l'armée est composée de citoyens âgés de 17 à 60 ans. Ils sont répartis dans des légions selon leur fortune car chacun paie son armement. Donc, au départ, seuls les pauvres échappent au service militaire. Mais à la suite, des conquêtes, un consul réorganise l'armée et crée une armée de métier. La vie du soldat est très dure, il subit un rude entraînement, porte ses armes et sa nourriture (+/- 30 kg). La discipline y est très sévère mais elle assure la supériorité de l'armée romaine sur ses ennemis.

b. L'empire romain se constitue progressivement.

Dès les débuts de la République, Rome réalise la conquête du centre et du sud de l'Italie. Après s'être imposé en deux siècles à toute l'Italie, Rome s'attaque au 3^e siècle à Carthage, une puissante cité commerçante d'Afrique du nord. Pendant plus d'un siècle, trois guerres (les guerres puniques) opposent Rome à Carthage pour la domination de l'Occident. C'est finalement Rome qui est victorieuse de Carthage. Une fois Carthage conquise, les Romains poursuivent leurs conquêtes dans le bassin méditerranéen.

c. La guerre des Gaules.

Depuis 121 avant JC, le sud de la Gaule est déjà une province romaine. Le reste du territoire est peuplé par les Gaulois qui sont divisés en de nombreuses tribus et se font souvent la guerre. En 58 avant JC, Jules César profite des rivalités entre les gaulois pour entreprendre la conquête de la Gaule. Il se heurte à Vercingétorix, un jeune chef qui organise la résistance face à l'envahisseur romain. Vercingétorix est finalement vaincu en 52 avant JC après le siège d'Alésia. La Gaule devient alors une des plus riches provinces du monde romain.

II. Les conséquences des conquêtes sur la société romaine

a. Les romains pillent et imposent leur mode de fonctionnement

Rome est très dure lorsqu'elle est victorieuse. Les prisonniers de guerre sont réduits en esclavage, les autres habitants doivent effectuer le service militaire et payer à Rome de lourds impôts. Le pillage des provinces est systématique et général, pourtant, très vite, les riches provinciaux vaincus copient le mode de vie des Romains.

b. Les conquêtes bouleversent la société romaine.

Les romains abandonnent la vie simple qu'ils ont autrefois menée pour adopter le luxe et le raffinement orient hellénistique. Les romains admirent la culture grecque et se mettent à l'imiter. Ils assimilent leurs dieux aux dieux grecs. Ainsi naquit une civilisation gréco-romaine.

En même temps, l'écart entre les riches et les pauvres se creuse. Les petits paysans sont ruinés par les conquêtes et doivent faire face à la concurrence des produits venus des provinces. Ils souhaitent donc une réforme agraire (redistribution plus juste des terres) mais les riches s'y opposent. Alors, les citoyens pauvres s'engagent à voter dans le sens qui avantage les familles riches et celles-ci en échange, les font vivre. Les pauvres deviennent leurs clients.

Les guerres victorieuses menées par les généraux leur ont donné beaucoup de pouvoir par rapport au reste de la population et ils ont tendance à tout vouloir régler. Cette situation donnera naissance à de nombreuses guerres civiles (guerres qui opposent les habitants d'un même pays)

Légionnaire romain

