

Nom :

Prénom :

Classe : 1^{ère}

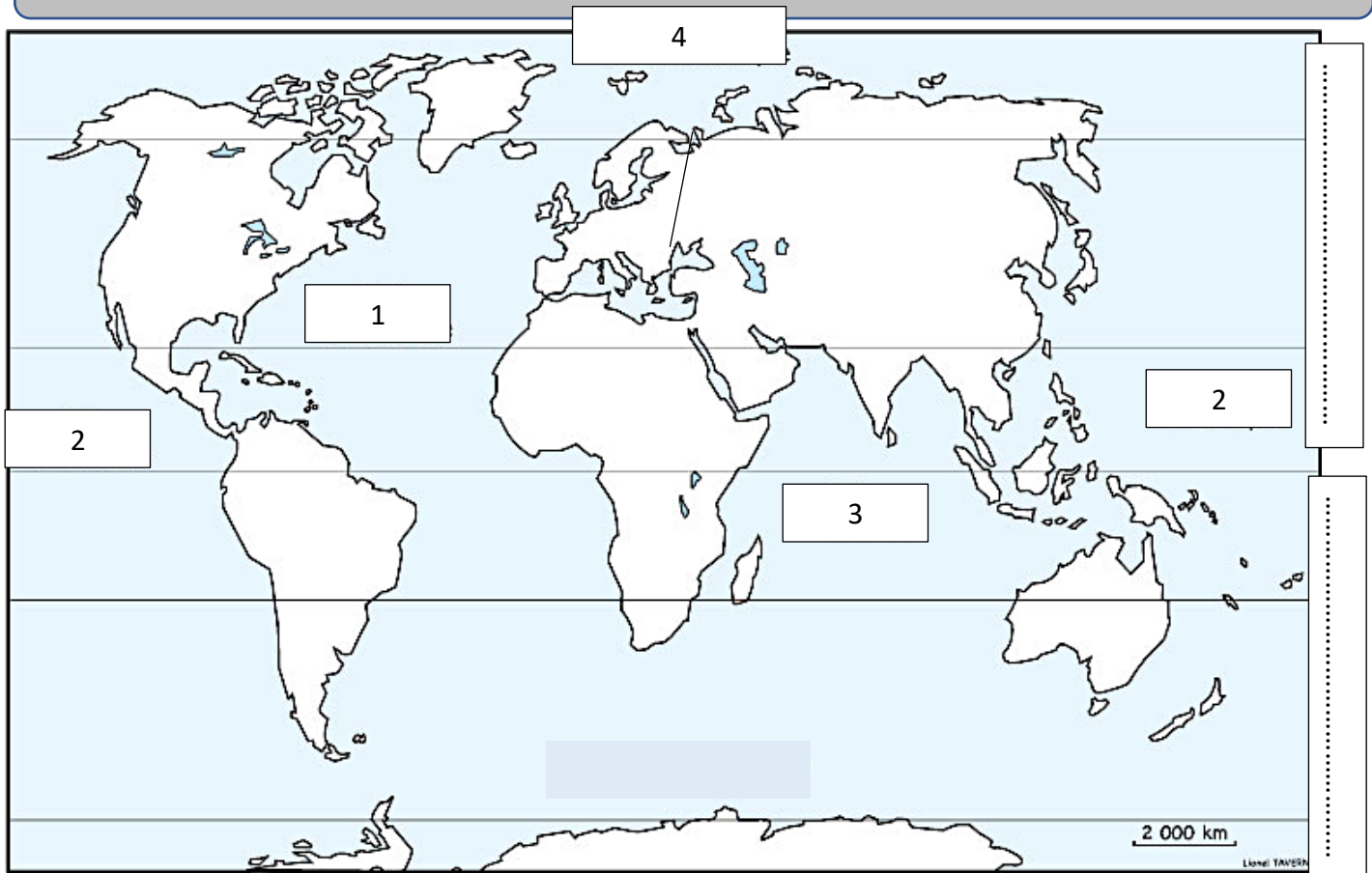


Géographie

Dossier d'exercices

M. Nejmi

1. Les continents et les océans + grands repères et lignes imaginaires.



Légende :

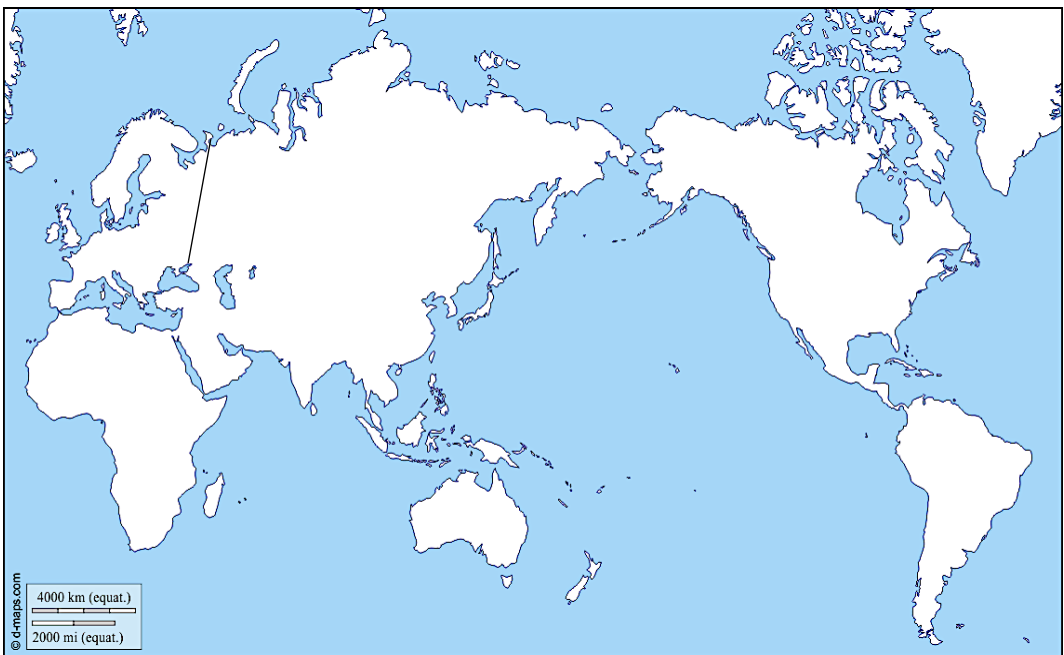
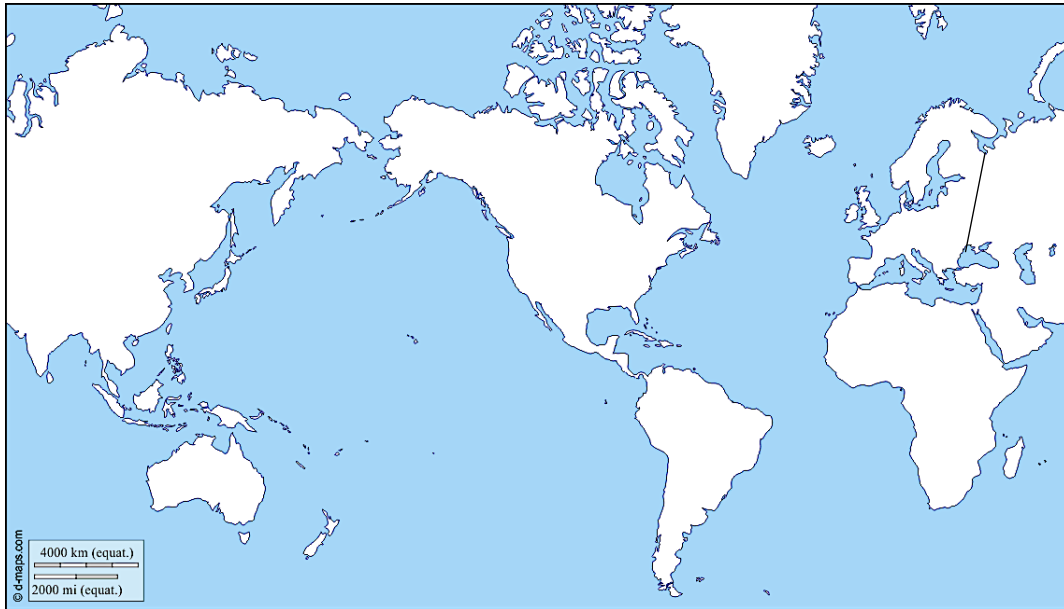
| | | |
|--------------------------|--------------------------|--------------------------|
| <input type="checkbox"/> | <input type="checkbox"/> | <input type="checkbox"/> |
| <input type="checkbox"/> | <input type="checkbox"/> | <input type="checkbox"/> |

| | | |
|--------------------------|--------------------------|--------------------------|
| <input type="checkbox"/> | <input type="checkbox"/> | <input type="checkbox"/> |
| <input type="checkbox"/> | <input type="checkbox"/> | <input type="checkbox"/> |

| | | |
|--------------------------|--------------------------|--------------------------|
| <input type="checkbox"/> | <input type="checkbox"/> | <input type="checkbox"/> |
| <input type="checkbox"/> | <input type="checkbox"/> | <input type="checkbox"/> |

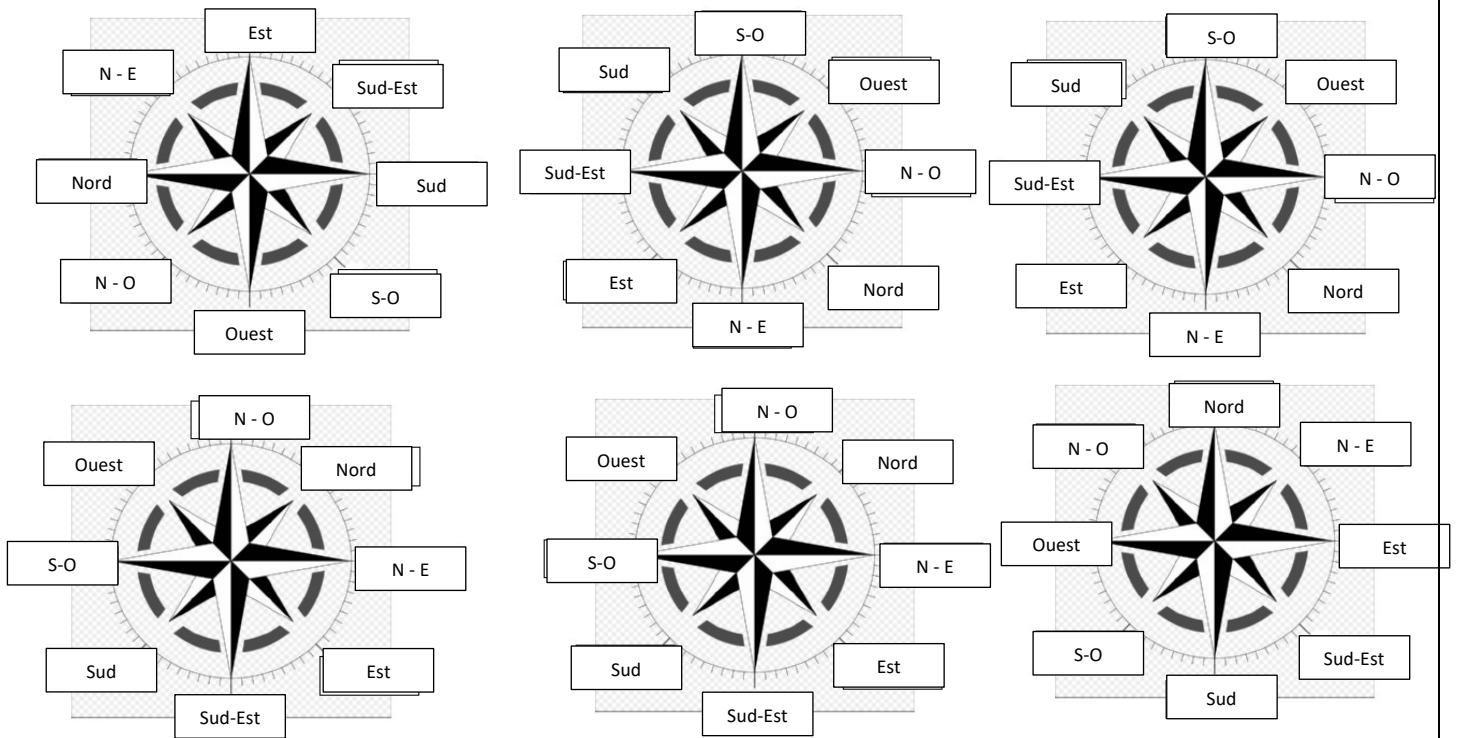
1. Sur la carte ci-dessus, réalise les exercices suivants :
 - a. Colorie les continents (Utilise une légende)
 - b. Indique le nom des océans :
 - 1)
 - 2)
 - 3)
 - 4)
2. Trace en rouge l'équateur.
3. Trace en vert les tropiques + indique leur nom précis sur la carte.
4. Trace en bleu les cercles polaires + indique leur nom précis sur la carte.
5. Indique, sur le côté droit de la carte, l'hémisphère nord et l'hémisphère sud.
6. Utilise la même légende de la carte de la page 2, pour localiser les continents des cartes de la page 3. Indique également le nom des océans.

→ → → **Corrigé des pages 2 et 3 → Voir le Thème 1 : p7 à 11.**



2. La rose des vents, les points cardinaux et collatéraux.

1. Complète ces roses des vents :



2. En utilisant les points cardinaux, complète les phrases suivantes :

- L'Afrique se situe au / à l'..... de l'Europe.
- L'Asie se situe au / à l'..... de l'Afrique.
- L'Asie se situe au / à l'..... de l'Amérique du Nord.

3. Vrai ou Faux ? Inscris la bonne réponse. Justifie ta réponse (dans dernière colonne) :

| | | |
|---|------|----------------------------------|
| L'Afrique se situe au nord-ouest de l'Asie. | FAUX | <input type="text" value="S-O"/> |
| L'Europe se situe au nord-ouest de l'Océanie. | VRAI | |
| L'Asie se situe au nord-est de l'Afrique. | VRAI | |

4. Complète les phrases suivantes :

- L'océan Atlantique se situe au / à de l'Amérique du nord.
- L'océan Pacifique se situe au / à de l'Asie.
- L'océan Pacifique se situe au / à de l'Amérique du sud.
- L'océan Indien se situe au / à de l'Afrique.
- L'océan Indien se situe au / à de l'Asie.

5. Vrai ou Faux ? Inscris la bonne réponse. Justifie ta réponse (dans dernière colonne) :

| | | |
|---|------|--------------|
| L'Afrique se situe à l'ouest de l'océan Atlantique. | FAUX | EST |
| L'Amérique du sud se situe au sud de l'océan Indien. | FAUX | EST ou OUEST |
| L'Asie se situe au nord-ouest de l'océan Atlantique. | VRAI | |
| L'océan Atlantique se situe à l'ouest de l'océan Indien. | VRAI | |
| L'océan Atlantique se situe à l'ouest de l'océan Pacifique. | FAUX | EST |
| L'océan Indien se situe à l'ouest de l'océan atlantique. | FAUX | EST |

3. Analyse d'images/paysages, les différentes vues.

1. Sur base des images ci-dessous, identifie s'il s'agit d'une vue verticale, horizontale ou oblique :



Vue **HORIZONTALE**




Vue **OBLIQUE**



Vue **OBLIQUE**



Vue **OBLIQUE**



Vue **OBLIQUE**




Vue **OBLIQUE**

Vue **VERTICALE**





Vue **HORIZONTALE**



Vue **OBLIQUE**




Vue **VERTICALE**

Vue **HORIZONTALE**



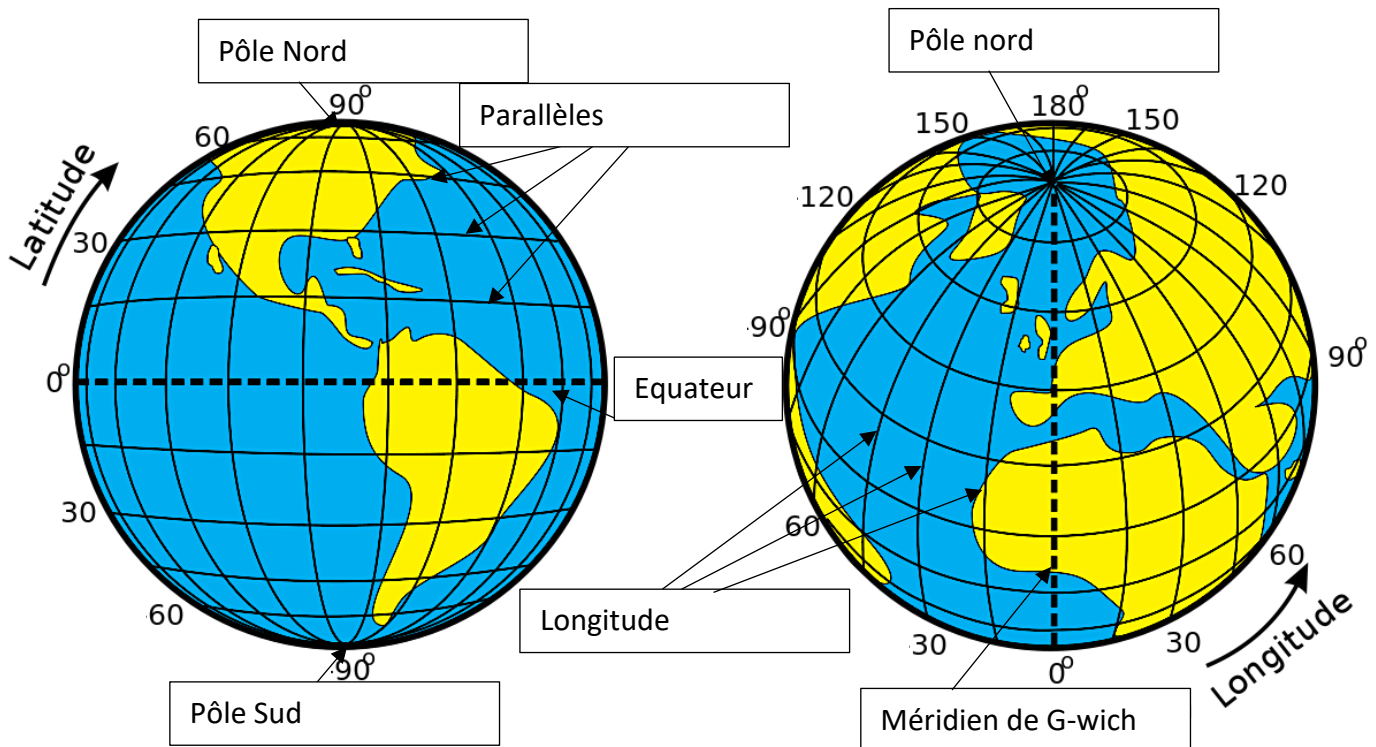
Vue **HORIZONTALE**



Vue **VERTICALE**

4. Les coordonnées géographiques : latitudes et longitudes.

1. Complète ce schéma en indiquant les éléments suivants :



→ Le nom des pôles, les repères géographiques d'origine, l'encadré représentant la latitude et celle représentant la longitude.

2. Complète ces phrases :

→ Une latitude s'exprime soit en une latitude **Nord** ou une latitude **Sud**.

Chaque latitude est représentée par un **degré** sur le globe. Le repère d'origine est **l'équateur**. La latitude maximale est égale à **90°** au pôle Nord ou égale à **90°** au pôle Sud.

→ Une longitude s'exprime en une longitude **Ouest** ou une longitude **Est**.

Chaque longitude est représentée par un **degré** sur le globe. Le repère d'origine est **méridien de Greenwich**. La longitude maximale est égale à **180°O** ou **180°E**.

5. Construction d'un graphique (bandelette ou linéaire)

1) Sur base de ta fiche outil n°1, identifie le type de graphique à réaliser et construis-le sur une feuille quadrillée.

Tableau 1 : graphique à construire sur feuille de bloc

Superficie des continents en km².

| Continents | Superficie (en km ²) | Pourcentage (%) | Mesure en cm |
|----------------|----------------------------------|-----------------|--------------|
| Afrique | 30 | 20,5 | 2 |
| Asie | 44 | 30,5 | 3 |
| Amérique | 42 | 29 | 3 |
| Océanie | 7 | 5 | 0,5 |
| Europe | 9 | 6 | 0,5 |
| Antarctique | 13 | 9 | 1 |
| TOTAL : | 145 | 100 | 10 |

Remplacer les mesures (ordre décroissant) au sein d'un rectangle de 10 cm de long et 1cm de large. Ne pas oublier : légende, titre et échelle : Se baser sur la f-outils : Construire un graphique en bandelettes