

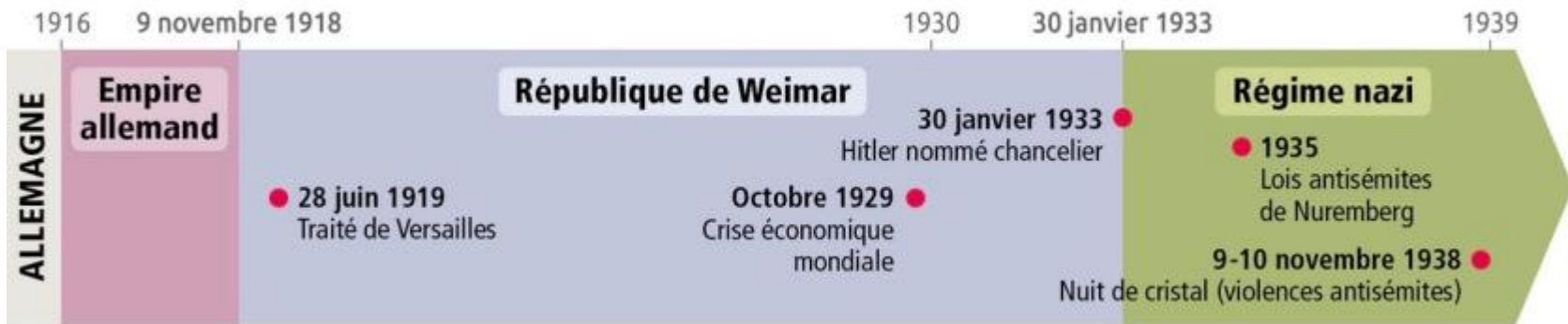
# LE CONTEXTE D'EMERGENCE ET DE MONTEE DU PARTI NAZI EN ALLEMAGNE

Exercice inspiré des dernières leçons

Comment, à peine en quelques années d'existence, le parti nazi a-t-il pu devenir le premier parti d'Allemagne ?

Nous avons vu en classe la crise économique, sociale, économique, politique et morale dont s'est nourrie l'extrême-droite allemande (nazis) pour monter au pouvoir.

Voici une ligne du temps synthétique sur l'Allemagne jusque 1939

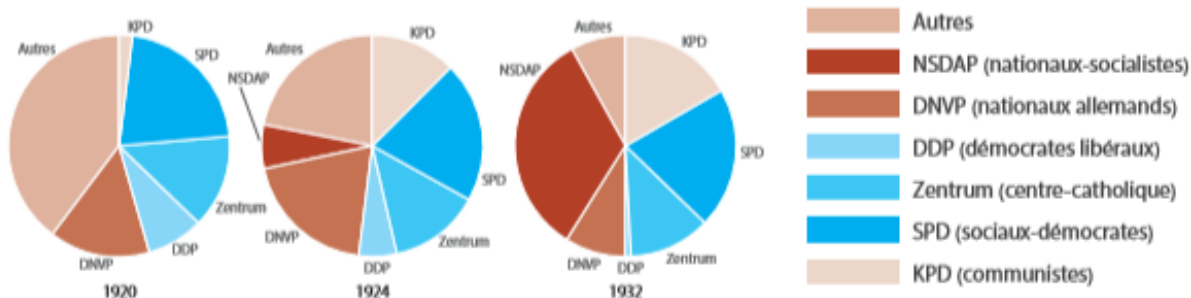


Réponds aux questions portant sur les documents: le correctif arrivera le temps que tu réalises l'exercice 😊

**Document 1**: résultat des élections législatives de 1920 à 1932  
(élection des députés au Parlement)

Parti	Pourcentage des voix aux élections législatives		
	6 Juin 1920	7 décembre 1924	6 novembre 1932
<b>KPD</b> (communistes) <i>Kommunistische Partei Deutschlands</i>	2,1 %	12,6 %	16,9 %
<b>SPD</b> (sociaux-démocrates) <i>Sozialdemokratische Partei Deutschlands</i>	21,6 %	20,5 %	20,4 %
<b>Zentrum</b> (centre-catholique)	13,6 %	13,4 %	11,9 %
<b>DDP</b> (démocrates libéraux) <i>Deutsche Demokratische Partei</i>	8,3 %	5,7 %	0,95 %
<b>DNVP</b> (nationaux allemands) <i>Deutschnationale Volkspartei</i>	14,9 %	19,5 %	8,8 %
<b>NSDAP</b> (nationaux-socialistes [nazi]) <i>Nationalsozialistische Deutsche Arbeiterpartei</i>	/	6,6 %	33,1 %
<b>Autres</b>	39,5 %	21,7 %	7,95 %

document



D'après S. BERSTEIN et P. MILZA, *L'Allemagne de 1870 à nos jours*, A. Colin, Paris, p. 83 et J.-M. FLONNEAU, *Le Reich allemand de Bismarck à Hitler, 1848-1945*, A. Colin, 2003, p. 160.

## Questions portant sur le document 1

1) Quel est le thème de ce document? A quelle époque

2) D'après toi, lors d'élections législatives, quel poste occupe les hommes politiques élus? Par conséquent, le document 1 représente le pourcentage de voix obtenus par les..... allemands au élections législatives.

3) Qui sont les partis de «gauche», «d'extrême-gauche», «de centre», de «droite» et «d'extrême-droite» représentés aux élections législatives.

4) Quel est, pour chaque élection, le parti qui a remporté le plus de voix .

5) Quelle conclusion peux-tu tirer de l'analyse de ce document ? Quelle question de recherche peux-tu en dégager ?

## Document 2:

Le point de vue de Bernhard Heinrich Karl Martin VON BÜLOW \* sur le Traité de Versailles:

« Jamais n'a été infligée à un peuple, avec plus de brutalité une paix aussi accablante et aussi ignominieuse qu'au peuple allemand la paix honteuse de Versailles. Dans toutes les guerres des derniers siècles, des négociations entre vainqueur et vaincu avaient précédé la conclusion de la paix. (...) Mais une paix sans négociations préalables, une paix dictée comme celle de Versailles, est aussi peu une vraie paix qu'il n'y a transfert de propriété quand un brigand renverse à terre un malheureux et le contraint ensuite à lui remettre son porte-monnaie. La paix de Versailles nous a ravi plus de soixante-dix mille kilomètres carrés et plus de sept millions d'habitants. (...) Pour garder le géant enchaîné, on a mis deux sbires à ses flancs, la Pologne et la Tchécoslovaquie, qui ont reçu le droit, conservé aussi par les États vainqueurs, d'augmenter librement leurs forces militaires, tandis que notre armée, autrefois la plus forte et la plus brave du monde, était réduite à n'être qu'une force de police à peine suffisante pour maintenir l'ordre intérieur.

D'après Bernhard Heinrich Karl Martin VON BÜLOW \*, Mémoires du chancelier prince de Bülow, t. 3, Plon, Paris, 1931.

\* *Bernhard Heinrich Karl Martin von Bülow (1849 - 1929) est un homme politique allemand. Il est chancelier impérial du 16 octobre 1900 jusqu'au 16 juillet 1909, date à laquelle il démissionne.*



*Rappel: Le 28 juin 1919, dans la galerie des Glaces du château, le Traité de Versailles, un document diplomatique comportant 440 articles qui met fin à la guerre contre l'Allemagne, est signé. Ce traité désigne l'Allemagne comme responsable du conflit et lui impose de sévères sanctions : perte de territoires, dédommagement financier important, suppression de son armée, etc.*

## Questions portant sur le document 2

1) Que sais-tu de l'auteur et du traité de Versailles dont il parle?

2) Selon l'auteur, le Traité de Versailles est-il plutôt favorable ou plutôt défavorable à l'Allemagne ? Justifie ta réponse.

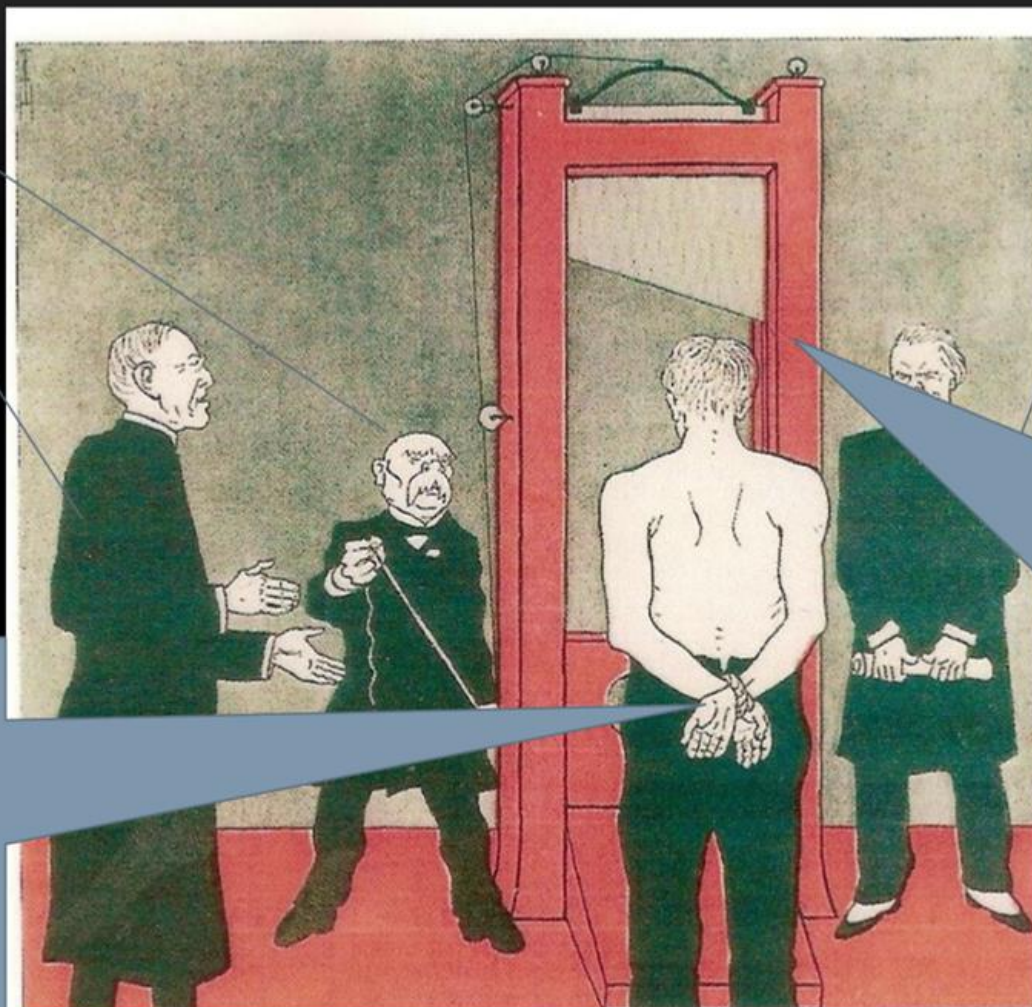
3) Sur base du ton employé et des mots utilisés, par quel(s) sentiment(s) l'auteur semble-t-il animé ?

**Document 3:** Caricature allemande de T. Heine parue dans le journal allemand *Simplicissimus*, 3 juin 1919

Clemenceau ,  
F

Wilson , US

Lloyd  
Georges,  
GB



L'Allemagne ,  
poings liés  
montrant que le  
traité lui est  
imposé

La guillotine  
symbole du  
diktat que  
représente le  
traité de  
Versailles





## Document 4

La République de Weimar Pour de nombreux Allemands ce régime éphémère n'a été qu'un long cauchemar : il a commencé dans la défaite et dans l'humiliation, s'est poursuivi par une suite de tentatives de coups de force et par l'hyperinflation [...]. La République de Weimar fut un régime raté, non seulement en raison des circonstances mais aussi à cause d'un certain nombre de vices inhérents ; c'était le type même de ces démocraties faibles comme il en fleurit dans toute l'Europe de la première après-guerre, dotées d'institutions impeccablement libérales dans leur principe, fruit de l'idéalisme du temps, mais difficilement compréhensibles pour des populations habituées à des régimes monarchiques autoritaires [...].

Jean-Pierre MINAUDIER (enseignant au Lycée La Bruyère, Versailles), le 17 octobre 2004, consulté sur <http://www.minaudier.com/documents/allemande/allemande-02-weimar.pdf>

*La République de Weimar est le nom donné au régime politique démocratique mis en place en Allemagne à l'issue de la Première Guerre mondiale jusqu'à l'avènement d'Adolf Hitler au pouvoir en 1933. Proclamée en 1918, la République de Weimar connaît dès ses débuts de nombreuses tensions et des conflits internes. Politiquement fragile, elle sera bientôt confrontée aux conséquences d'une grave crise économique...*



## Questions portant sur le document 4

1) Quelle est la profession, la nationalité de l'auteur? Quand écrit-il?

2) Compare les nationalités des auteurs et leur époque (documents 2,3) au 4: en quoi le document 4 est-il différent?

3) Quand la République de Weimar voit-elle le jour ?

4) À quel type de régime succède-t-elle ?

5) Comment est-elle perçue par la population allemande en général ?

6) Quelles sont les causes de l'échec de République de Weimar ?

## Document 5



Affiche provenant d'un tract électoral du *Deutschnationale Volkspartei* (DNVP-nationaux allemands) pour les élections de 1924.



Caricature datant de 1919 accompagnée de la légende suivante :

Jusqu'à un certain jour, l'Allemagne fut la plus grande et la plus puissante force militaire de la guerre mondiale. Un instant, le colosse a touché terre; mais la blessure mortelle n'est pas venue de l'extérieur, elle vint de l'intérieur.

## Questions portant sur le document 5

1) Identifie la nature de chacun de ces deux documents et ses destinataires.

2) Qui est la victime , qui est le bourreau représentés sur chacun de ces deux documents ? Décris-les.

3) Ces documents sont-ils fiables à 100%? Développe une raison de t'y fier et une raison de t'en méfier.

## Document 6

Témoignage

de Mélita, qui, dans les années 1960 raconte sa jeunesse dans l'Allemagne des années 20/ début 30:

« Ma mère nous ressassait que l'Allemagne avait perdu la guerre, bien que ses soldats aient été les plus valeureux. Une paix infamante avait causé l'écartèlement du pays. Nos parents se plaignaient sans cesse de l'appauvrissement de l'Allemagne. Ils imputaient cela aux réparations que notre pays devait payer à nos ex-ennemis. On comptait 6 millions de chômeurs. On ne parlait pas des conséquences de la grande dépression économique. Tous nos malheurs venaient du « désastre national » de Versailles. On entendait les adultes s'insurger contre les querelles confuses qui avaient lieu au Reichstag et on comprenait que ce désordre était dû aux partis politiques qui divisaient l'Allemagne et les Allemands. Il me semble que ma mère lisait chaque matin dans le journal la nouvelle d'un assassinat politique. On entendait sans cesse répéter que l'une des raisons de ce triste état de choses était l'influence grandissante des Juifs. Les nazis promirent de supprimer le chômage et la misère de 6 millions d'habitants et je les crus. Je crus qu'ils réaliseraient l'union du peuple allemand. »

D'après Mélita MASCHMANN, Ma jeunesse au service du nazisme, Plon, 1964, pp. 25-26

## Questions portant sur le document 6

1) D'après Mélika, quelles sont les trois crises que traverse l'Allemagne au début des années 20/ début 30?

Associe chaque crise à une/des phrases du texte.

2) Ce document est-il fiable à 100%? Développe une raison de t'y fier voire une raison de t'en méfier.

3) Qui sont «les nazis»? Qui en devient le leader? Que promettent-ils?

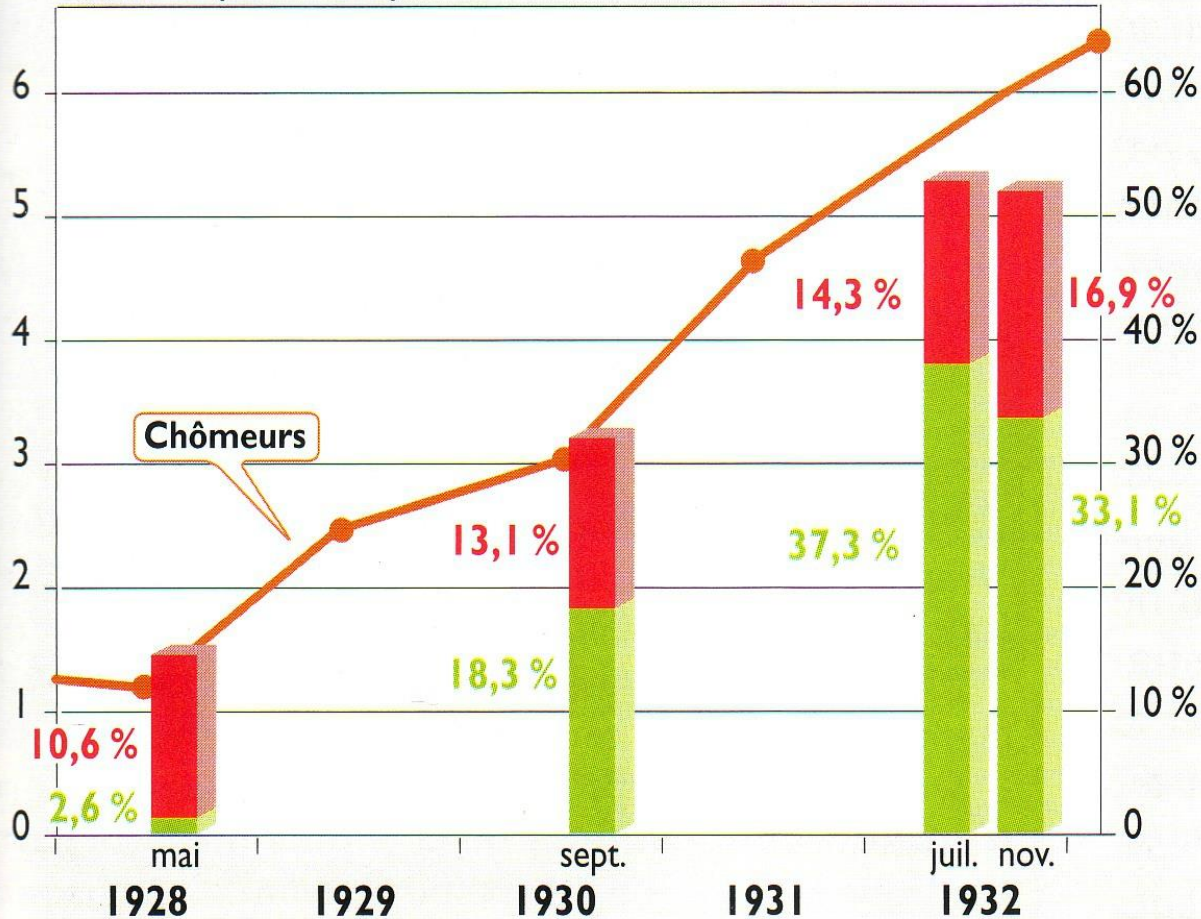
4) Par conséquent, quel est le moral des Allemands des années 20/début 30?



## Document 7

Évolution du nombre de chômeurs en Allemagne et du pourcentage des nazis (extrême-droite) et communistes (extrême-gauche) au Parlement

Chômeurs (en millions)

% de voix aux élections



 % de voix obtenues par le parti communiste au Reichstag  
 % de voix obtenues par le parti nazi au Reichstag

## Questions portant sur le document 7

1) Sur base de l'observation de ce document, que peux-tu déduire de la situation économique en Allemagne durant les années 1920 et début 1930 ?

Avance des chiffres pour appuyer ta réponse.

2) Que constates-tu au niveau du nombre de voix obtenues par les nazis (extrême-droite) et les communistes (extrême-gauche) au Parlement?

3) Que constates-tu plus précisément, si tu compares l'évolution économique au nombre de voix en faveur des nazis?



## Document 8: les affiches électorales de 1932

### 13 mars 1932

Premier tour de la deuxième, et dernière, élection présidentielle de la République de Weimar. Les cinq candidats sont Paul Von Hindenburg (indépendant), qui remporte 49,6% des voix; Adolf Hitler (NSDAP-nazi) qui gagne 30,2% des voix; Ernst Thälmann (Parti KPD-communiste) 13,2%; Theodor Düsternberg (Stahlhelm, Bund der Frontsoldaten) 6,8% et Gustav A. Winter (Inflationsgeschädigte) qui remporte 0,3%. Aucun candidat n'ayant réussi à obtenir la majorité absolue des votes, soit plus de 50%, un second tour est planifié.

### 10 AVRIL 1932

Second tour de l'élection présidentielle : Hindenburg est réélu pour un second mandat de sept ans avec 53,1% des voix. Adolf Hitler remporte 36,7% des voix et Ernst Thälmann 10,1%



Affiches d'Hitler

Affiche d'Hindenburg

Bundesarchiv, Bild 102-13203A  
Foto: o. Ang. | März 1932

<http://histoire.museeholocauste.ca/fr/chronologie/chemin-nazis-pouvoir>


Affiches des candidats à l'élection présidentielle de 1932, sur la Place Postdam de Berlin

### 31 juillet 1932

Élection législative fédérale : le Parti nazi devient la première force politique en Allemagne en remportant 37,4% des voix, soit 230 sièges au Parlement.

### 6 novembre 1932:


Élection législative fédérale : le vote nazi descend à 33% tandis que les Communistes et les Conservateurs gagnent des voix. Cette élection s'avère être la dernière en Allemagne avant la prise de pouvoir par les nazis.



« Notre dernier espoir:Hitler »



« Termes-  
en maintenant: Vote Hitler »



La police nazie d'Hitler,(S.A.) collant des affiches dans Berlin





Bundesarchiv, Bild 102-03126  
Foto: a. Aug. - 1.24. April 1932

« du travail, de la liberté et du pain. Vote nationaux socialistes »




« Notre chantier: du travail, de la liberté et du pain. Votez nationaux socialistes

Celui des autres: corruption, terreur, précipitation, mensonges »





« Du travail et du pain  
Avec la liste 1 »



« Le peuple choisit la liste 1 des nationaux socialistes. »



# Männer! Frauen!

Millionen Männer ohne Arbeit  
Millionen Kinder ohne Zukunft



Rettet die drückende Familie

Wählt

# Adolf Hitler!

Hombres! Femmes!

Des millions d'hommes sans travail

## Questions portant sur le document 8

1) Quel parti politique édite ces affiches électorales?

2) D'après sa dénomination, qu'est-ce qu'il est sensé défendre? Est-ce positif/négatif?

3) A travers le graphisme, les mots, les couleurs, la taille et le type des caractères, quels sont les messages que ce parti adresse à la population?

4) Quelle catégorie sociale veut-il conquérir?

5) Compte tenu du contexte de l'époque que tu a analysé dans les documents précédents, ces affiches te semblent-elles efficaces? Auront-elles un impact?

5) Ce parti a comme emblème «la croix gammée»: que signifie-t-elle? quelle est son origine historique et géographique?

## Document 9

Considérations sur la démocratie

Joseph Goebbels (1897-1945) expose avec cynisme la tactique des nazis pour abattre la République dans son journal Der Angriff (L'attaque).

Nous allons au Reichstag pour utiliser à notre profit les armes de la démocratie. Nous devenons députés pour paralyser l'esprit de Weimar avec sa propre collaboration. Si la démocratie est assez stupide pour nous donner des cartes de transports gratuites et une indemnité parlementaire, c'est son affaire... Si nous arrivons lors des élections à placer 60 à 70 agitateurs de notre parti dans les différents parlements, l'État lui-même nous offrira les armes avec lesquelles nous le combattrons... Mussolini aussi s'est fait élire au Parlement. [...] Il ne faut pas croire que nous avons découvert dans le parlementarisme notre chemin de Damas. Nous y venons en ennemis, comme le loup fait irruption dans la bergerie.

J. GOEBBELS, Der Angriff, 30 avril 1928, dans L. BOURQUIN, Histoire 1re L, ES, éd. Belin, 2003, p. 253.

*Joseph Goebbels (1897-1945) était un homme politique allemand, membre du parti national-socialiste. Ministre du Reich à l'Éducation du peuple et à la Propagande sous le Troisième Reich de 1933 à 1945, son nom reste indissolublement lié à l'emploi des techniques modernes de la manipulation des masses et de la démagogie qu'ont été capables de diffuser les propagandes des États totalitaires. Joseph Goebbels était un proche d'Adolf Hitler et, avec Hermann Goering et Heinrich Himmler, un des ministres les plus puissants et influents du régime national-socialiste, particulièrement par sa position de ministre du Reich à l'Éducation du peuple et à la Propagande.*

## Questions portant sur le document 9

1) Identifie l'auteur du document et sa relation professionnelle avec Adolf Hitler

2) Compte tenu des informations que tu as également puisées dans les documents précédents, l'accès au pouvoir d'Adolf Hitler est-il, ou non, le résultat d'un fonctionnement démocratique ? Justifie ta réponse.

3) Quel destin l'auteur promet-il à la démocratie ?